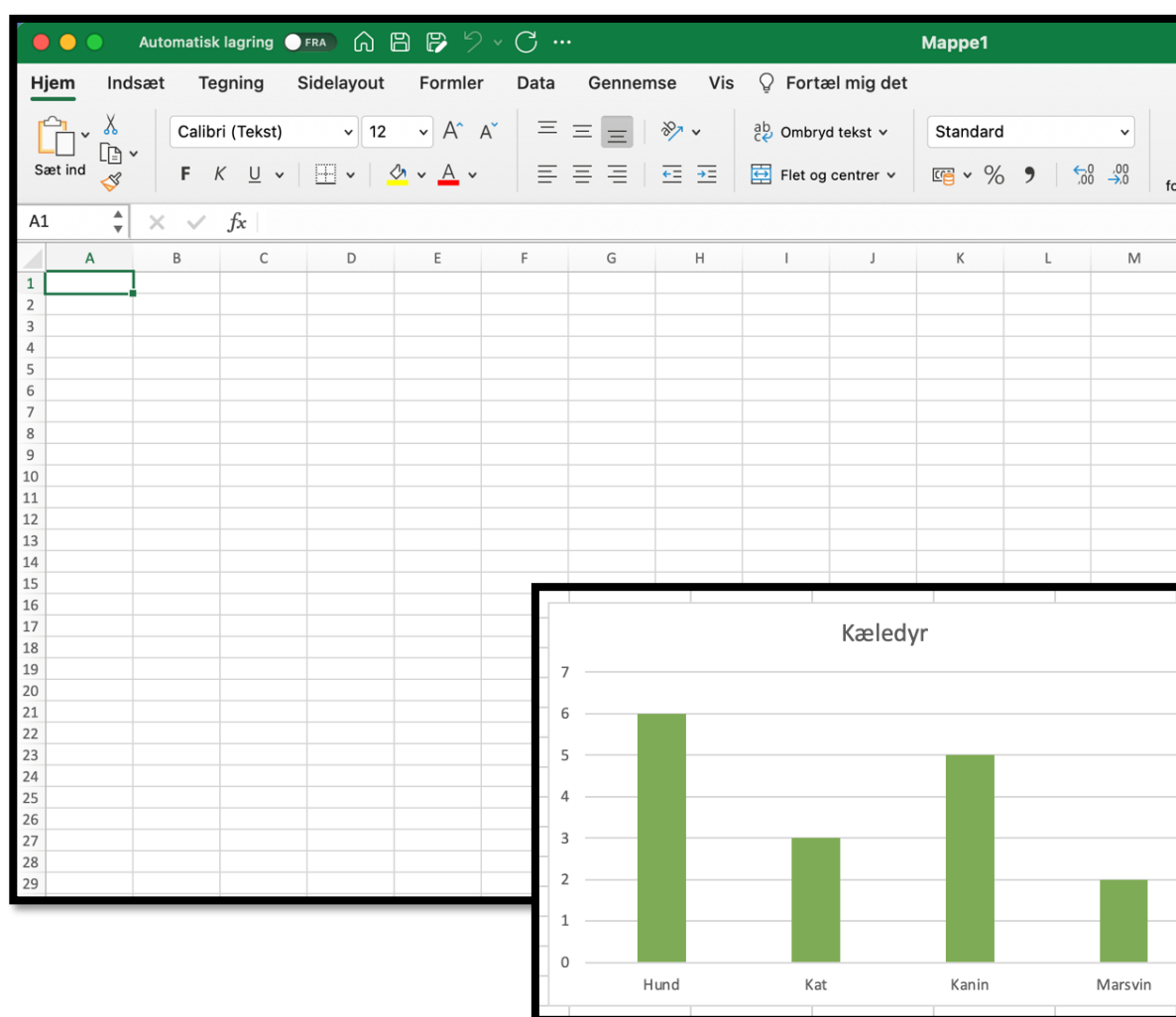


Elevhæfte

Mit første møde med Excel



Navn: _____

Indholdsfortegnelse

JEG SKAL LÆRE	3
ÅBN OG OPRET ET REGNEARK	3
HVAD ER ET REGNEARK, CELLER, KOLONNER OG RÆKKER	4
OPGAVE 1	5
FARV CELLER.....	5
PLUS I ET REGNEARK	6
OPGAVE 2	7
HVOR MANGE MÅL?.....	7
MINUS I ET REGNEARK	8
OPGAVE 3	9
HVOR MANGE STYKKER CHOKOLADE?	9
TABEL OG DIAGRAM	10
OPGAVE 4	12
UNDERSØGELSE.....	12

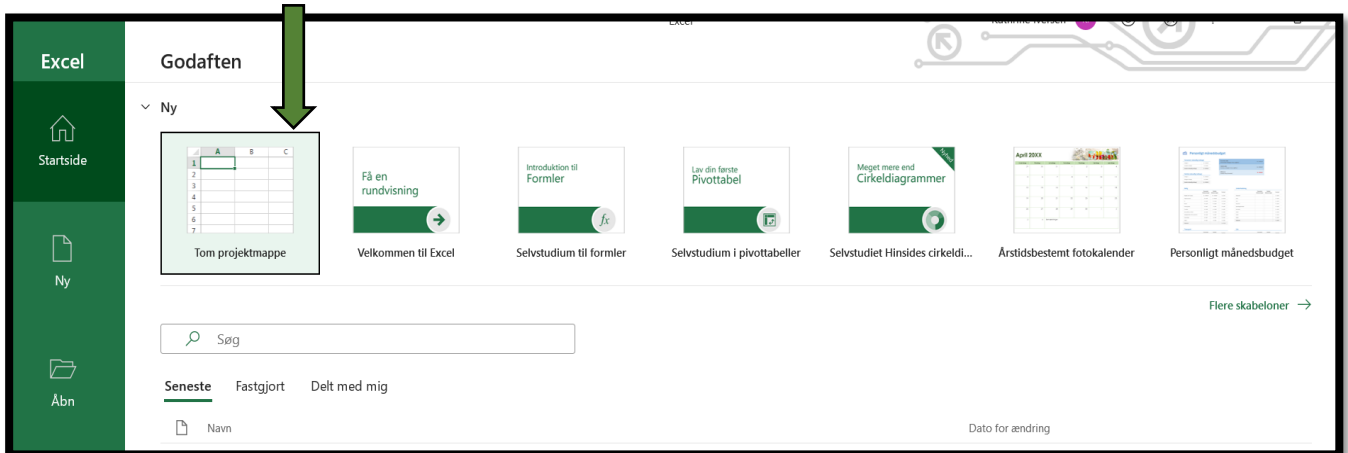
Jeg skal lære...

- At åbne og oprette et regneark og gemme det
- Kende til kolonner, rækker og celler
- Farve celler
- Plus i regneark
- Minus i regneark
- Indsætte et diagram i et regneark

Åbn og opret et regneark

Åbn Excel

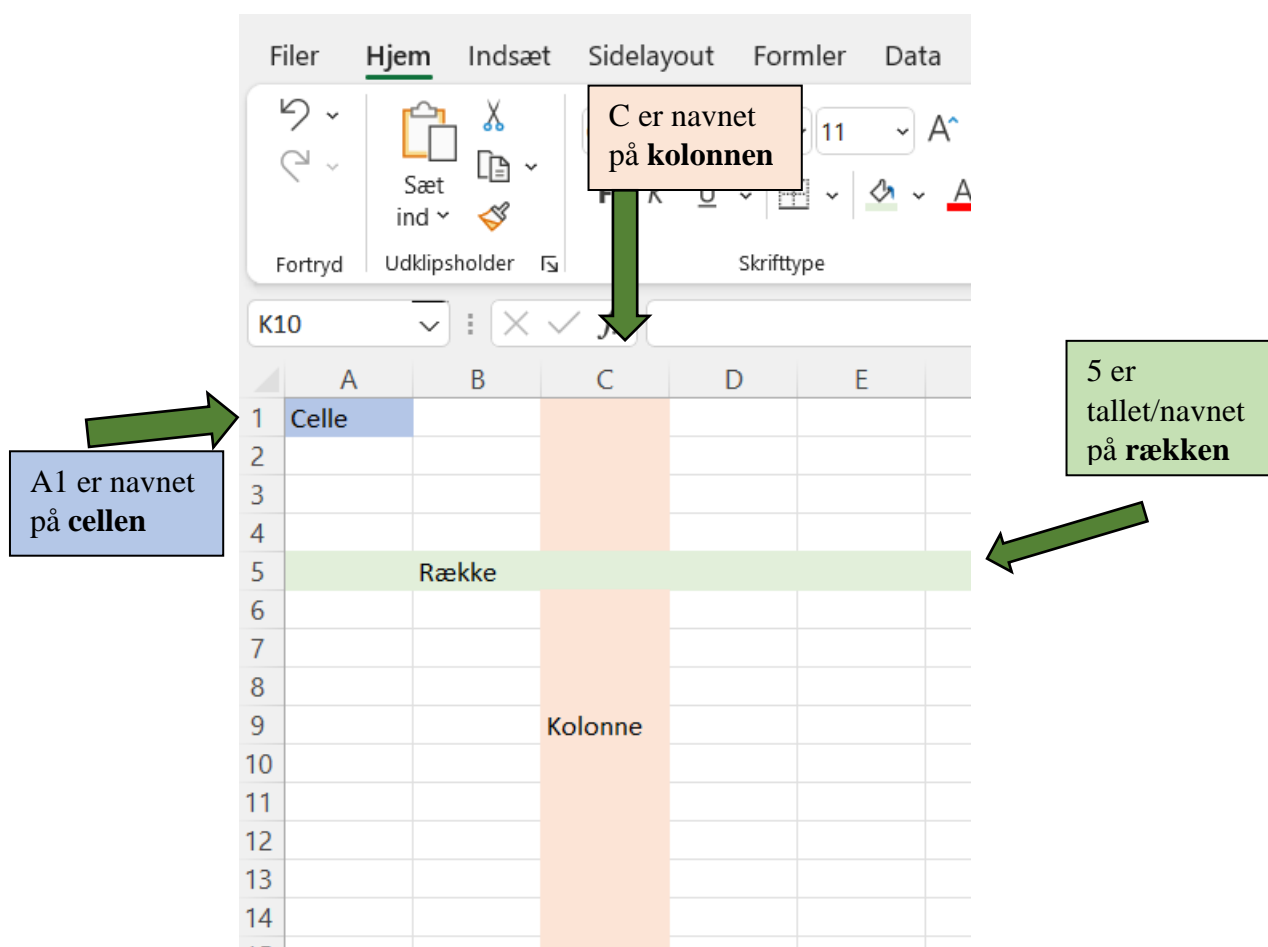
Tryk på **Ny Tom projektmappe**



Gem regnearket ved at trykke på **Filer** og **Gem som**

Hvad er et regneark, celler, kolonner og rækker

Et regneark er et stort ternet ark, som man kan bruge til at regne med.



Opgave 1

Farv celler

Du skal nu farve følgende celler:



= B3, B4, B5, B6, C2, C3, C4, C5, C6, C7, D3, D4, D5, D6



= C8, C9, C10, C11, C12, C13, C14, C15



Hint: Når du har farvet et felt, kan du kopiere farven ned i felterne nedenunder, ved at "hive" i det lille sorte prik nederst til højre.


Hvilket værktøj ligner det?

En _____

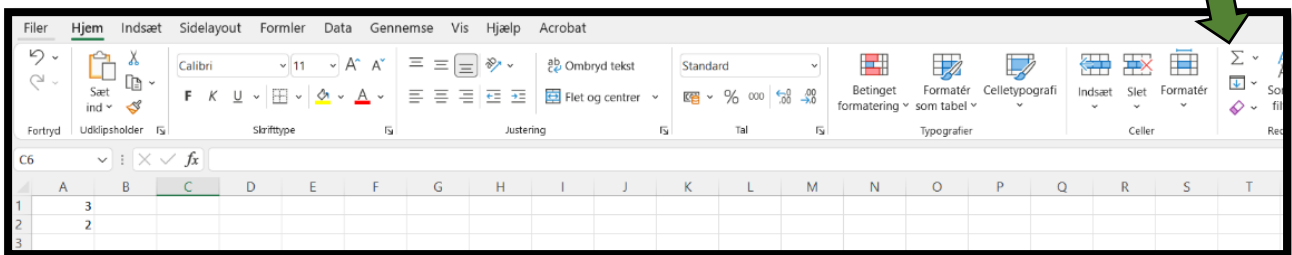
Plus i et regneark

Når du skal lægge flere tal sammen (+) så skal du bruge "sum-tegnet".

Sum tegnet regner dit plusstykke ud.



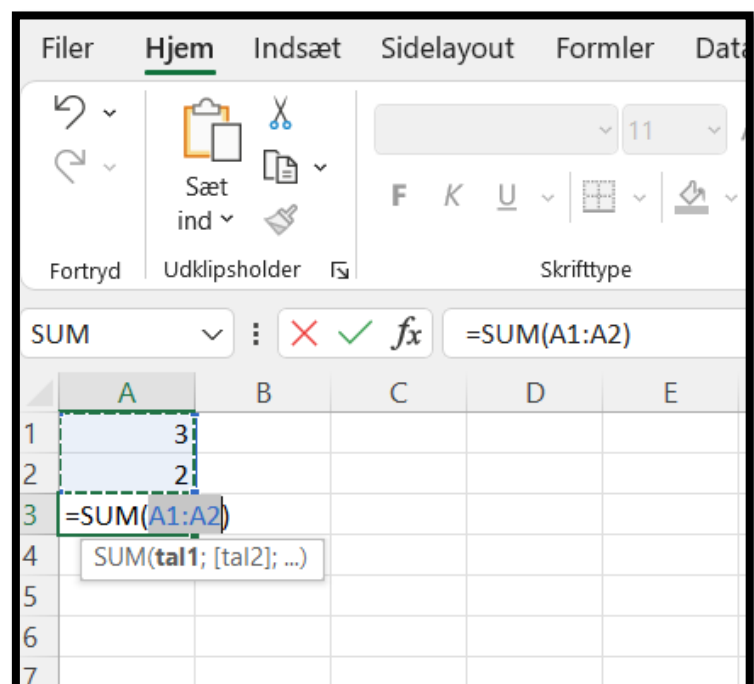
Sum-tegnet



Prøv selv

Fx

- Skriv 3 i A1 og 2 i A2
- Stil dig på A3 og tryk på sum tegnet og så på enter



Opgave 2

Hvor mange mål?

Læs regnehistorien:

I hele fodboldsæsonen har FCK scoret 32 mål og Brøndby har scoret 29 mål. Hvor mange mål har de scoret tilsammen?

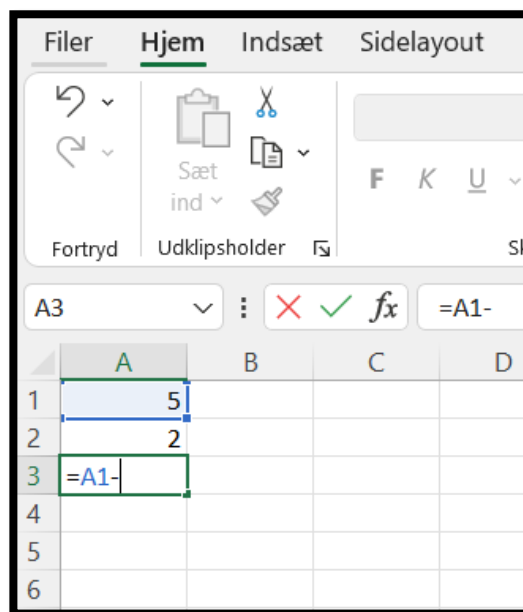
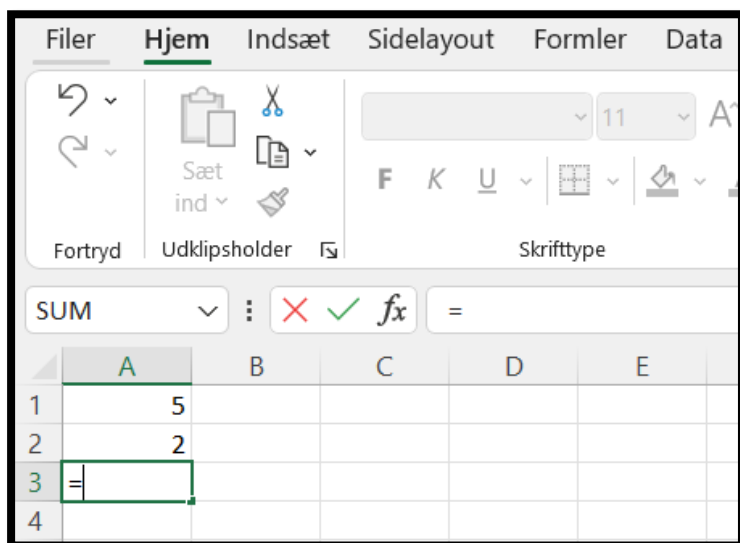
- Skriv tallene ind i Excel.
- Prøv at regne det ud ved at bruge sum-tegnet.

Hvor mange mål har de scoret til sammen? _____



Minus i et regneark

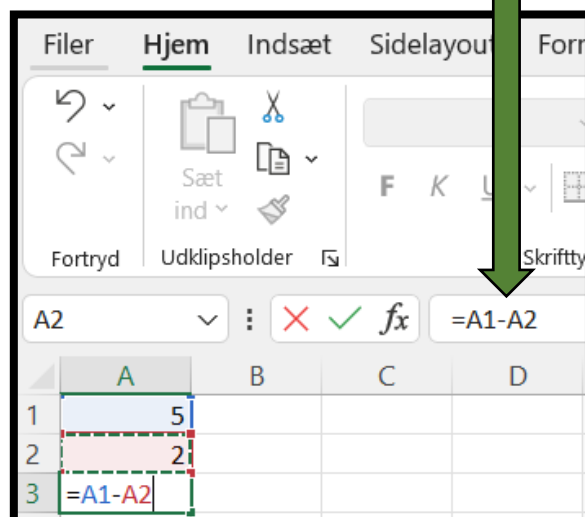
Når du skal trække to tal fra hinanden i regnearket (-) skal du stille dig i en tom celle. Skriv = og derefter trykke på den første celle (tal) og derefter på den celle du vil trække fra (det andet tal).



Prøv selv

- Skriv 5 i A1 og 2 i A2
- Skriv = i A3
- Tryk på A1 og skriv –
- Tryk derefter på A2
- Tryk på enter

Her kan du se hvilke celler du trækker fra hinanden.



Opgave 3

Hvor mange stykker chokolade?


Læs regnehistorien:

Linus har 12 stykker chokolade og spiser 8 stykker chokolade.

Hvor mange stykker chokolade har Linus tilbage?

- Skriv tallene ind i Excel.
- Prøv at regne det ud på samme måde som før.

Hvor mange stykker chokolade har Linus tilbage?

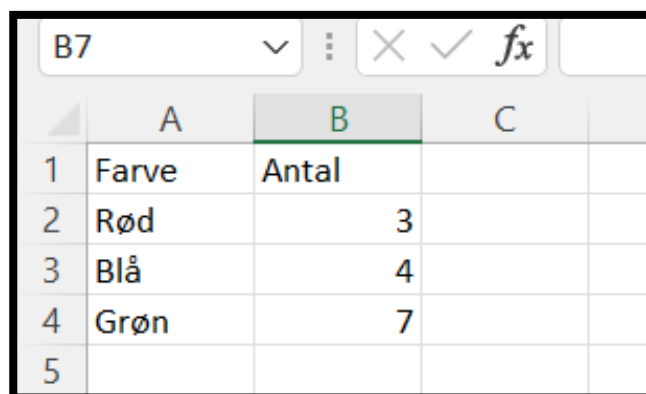


Tabel og diagram

I regnearket kan du skrive en tabel.

Det gør du ved at skrive ord eller tal i den ene kolonne fx kolonne A og tal i kolonne B.

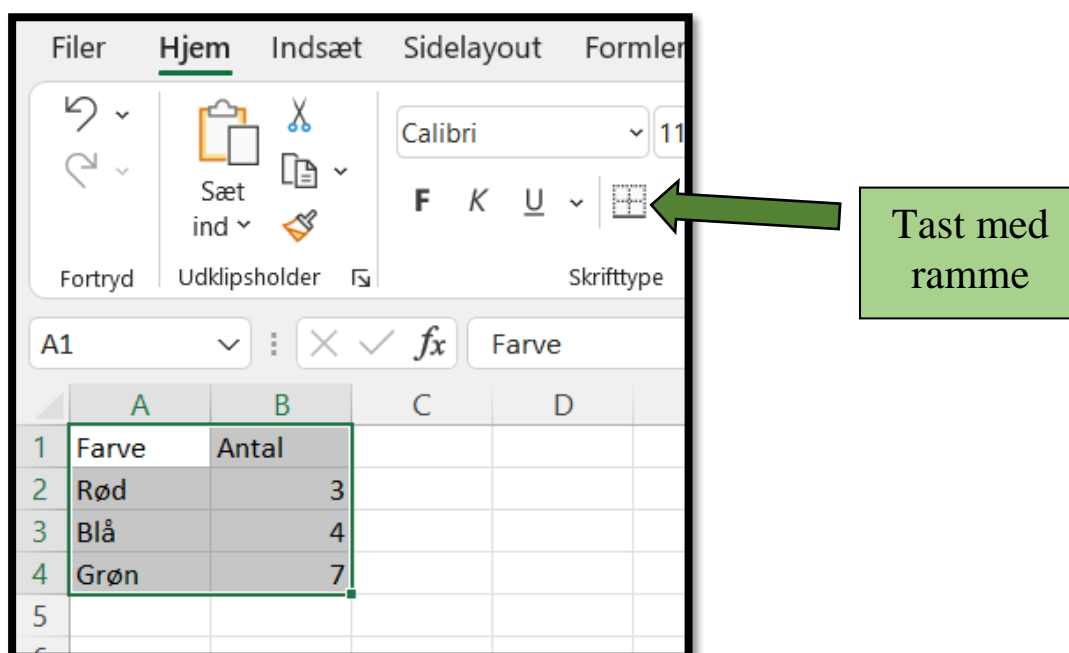
Øverst kan du skrive hvad det er fx farve bluse og antal.



	A	B	C
1	Farve	Antal	
2	Rød	3	
3	Blå	4	
4	Grøn	7	
5			

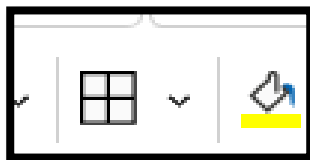
Prøv selv

- Skriv *Farve* i A1
- Skriv *Antal* i B1
- Skriv de samme tal som på fotoet ind i kolonne A og B
- Markér det hele
- Tryk på tasten med ramme

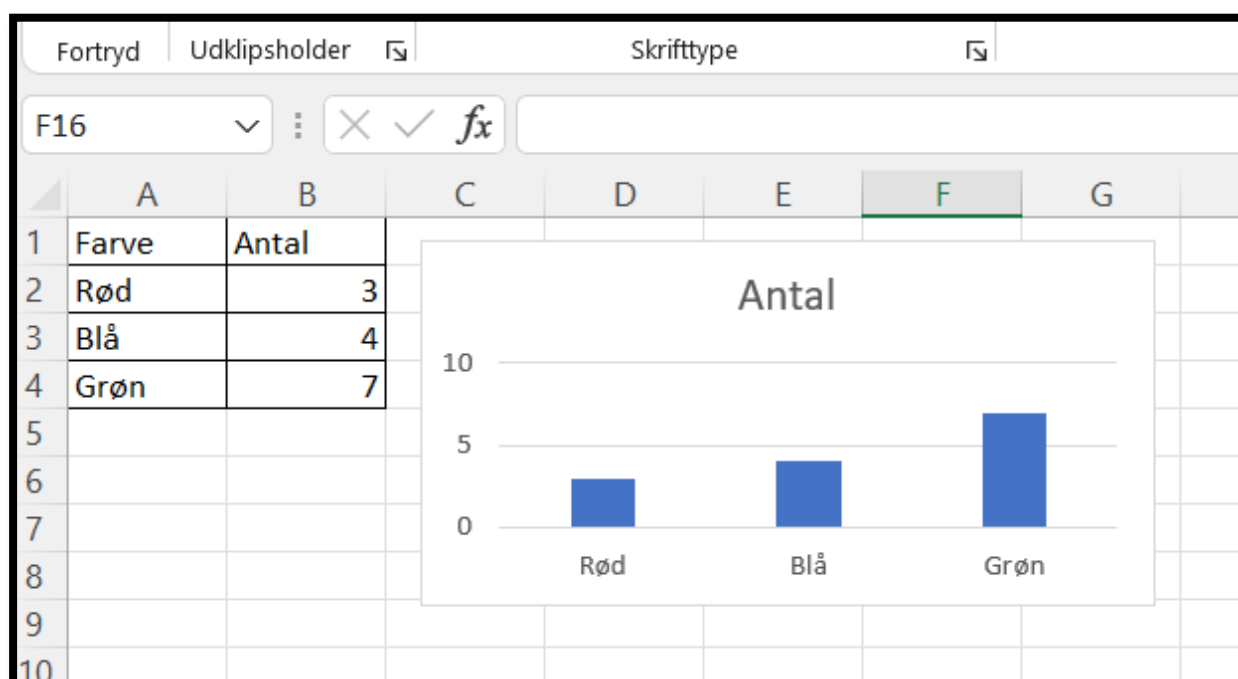
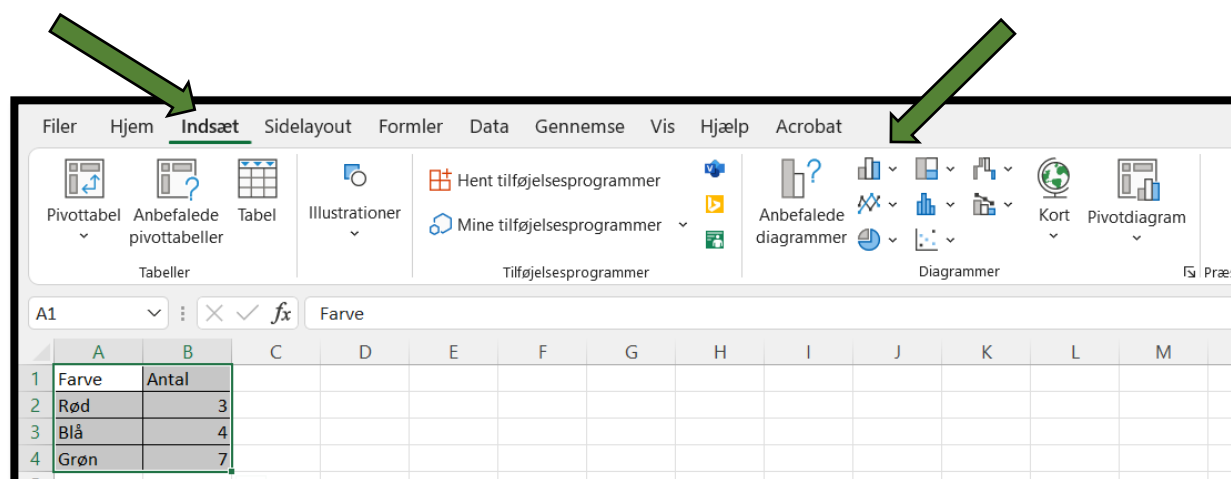


The image shows the Microsoft Word ribbon with the 'Hjem' tab selected. The 'Sæt ind' group contains the 'Tast med ramme' button, which is highlighted with a green arrow and a green box labeled 'Tast med ramme'. Below the ribbon, a small Excel spreadsheet is visible, showing the same table as in the previous image.

- Vælg alle kanter



- Tryk på indsæt og vælg et af diagrammerne



Opgave 4

Undersøgelse



Du skal lave en lille undersøgelse

Du skal finde ud af:

Hvilke farver bluser dine klassekammerater har på.

Sådan gør du:

- Skriv farverne ind i regnearket
- Tæl derefter hvor mange der har den farve bluse på
- Indsæt en tabel og diagram

